

## LKPD 1

Anggota Kelompok :

- 1.
- 2.
- 3.
- 4.
- 5.

### Petunjuk pengerjaan LKPD

- Tulislah identitas dengan jelas dan lengkap
- Perhatikan petunjuk LKPD dengan teliti
- Periksa kembali jawabanmu sebelum dikumpulkan






### Ayo mengamati

1. Amatilah video pembelajaran yang guru tampilkan.  
Buatlah catatan penting pada buku tulismu.  
Tulis jawabanmu pada kolom yang telah disediakan.

Berdasarkan video yang ditampilkan, bersama kelompokmu analisislah mana komponen biotik dan abiotik dalam ekosistem

Biotik	Abiotik

2. Setelah kamu mengamati video pembelajaran sebelumnya.  
Pasangkanlah jenis-jenis ekosistem berikut. Tarik garis pada gambar yang sesuai

		Hutan tropis
		Sabana
		Tundra
		Taiga
		Gurun

## LKPD 2

Anggota Kelompok :

- 1.
- 2.
- 3.
- 4.
- 5.

### Petunjuk pengerjaan LKPD

- Tulislah identitas dengan jelas dan lengkap
- Perhatikan petunjuk LKPD dengan teliti
- Periksa kembali jawabanmu sebelum dikumpulkan







### Ayo Mengerjakan

Tulis jawabanmu pada kolom yang telah disediakan.

1. Menebak benar atau salah Berilah tanda (✓) apabila jawaban benar

No	Soal	Benar	Salah
1.	Berdasarkan jenis makanannya jenis hewan dibedakan menjadi 3 golongan		
2.	Herbivora adalah hewan pemakan daging		
3.	Omnivora adalah hewan pemakan daging dan tumbuhan		
4.	Karnivora adalah hewan pemakan segala		
5.	Herbivora adalah hewan pemakan tumbuhan		

2. Menarik garis "joint with arrow" Berikut adalah gambar hewan dan pasangannya. Jodohkan hewan-hewan tersebut untuk menemukan makanannya!

### LKPD 3

Anggota Kelompok :

- 1.
- 2.
- 3.
- 4.
- 5.

#### Petunjuk pengerjaan LKPD

- Tulislah identitas dengan jelas dan lengkap
- Perhatikan petunjuk LKPD dengan teliti
- Periksa kembali jawabanmu sebelum dikumpulkan

#### Ayo Mengerjakan

Tulis jawabanmu pada kolom yang telah disediakan.

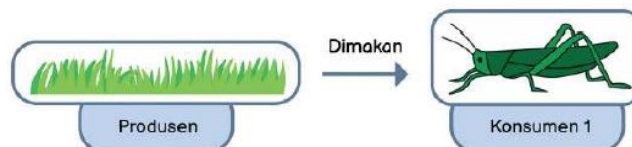
1. Setelah menyimak video, jawablah pertanyaan dibawah ini dengan benar!

Apakah yang dimaksud rantai makanan?

Uraikanlah komponen rantai makanan yang ada pada ekosistem sawah!

2. Menggambar Rantai Makanan

- Kalian akan menggambarkan hubungan makan dan dimakan pada ekosistem
- Hubungkan satu komponen dengan komponen lain yang memakannya. Ingat, tanda panah mengarah kepada yang memakan
- Jangan lupa untuk memberikan label produsen, konsumen, dan seterusnya
- Gambarlah pada kolom yang telah disediakan








## Kunci jawaban LKPD 1

1.

Biotik	Abiotik
Padi	Udara
Ulat	Air
Tikus	Matahari

2.

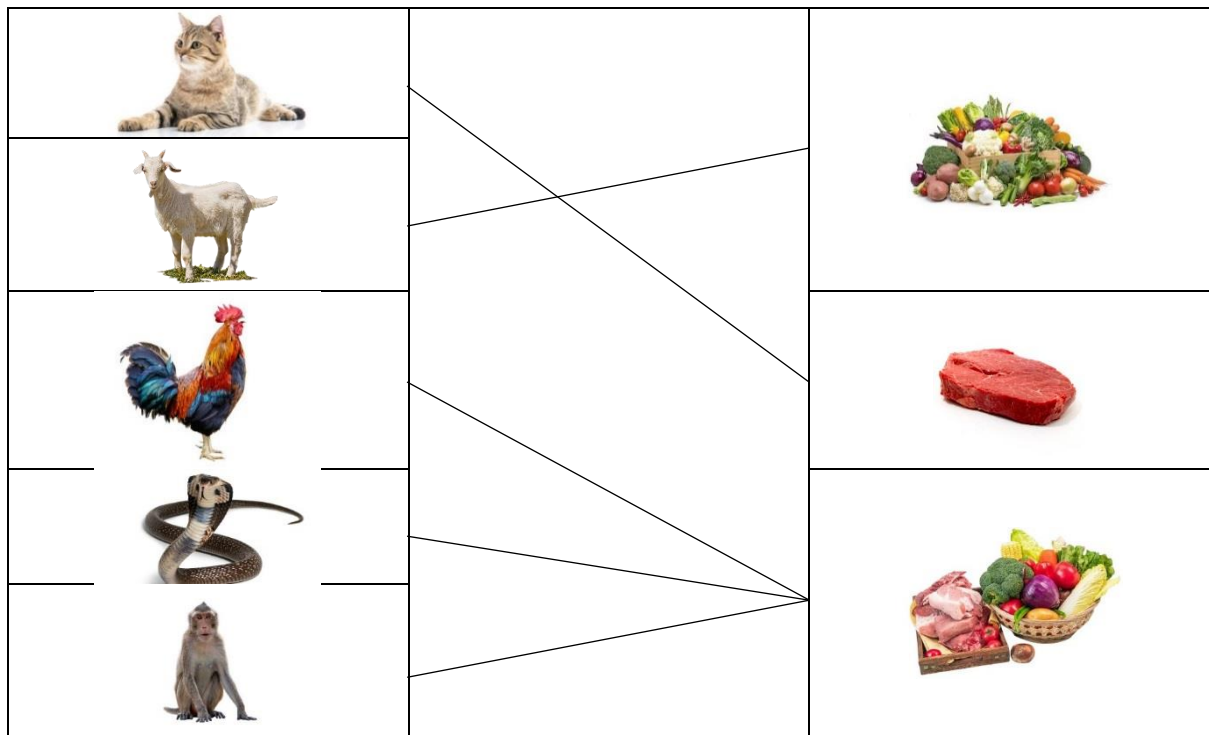
		Hutan tropis
		Savana
		Tundra
		Taiga
		Gurun

## Kunci jawaban LKPD 2

1.

No	Soal	Benar	Salah
1.	Berdasarkan jenis makanannya jenis hewan dibedakan menjadi 3 golongan	✓	
2.	Herbivora adalah hewan pemakan daging		✓
3.	Omnivora adalah hewan pemakan daging dan tumbuhan	✓	
4.	Karnivora adalah hewan pemakan segala		✓
5.	Herbivora adalah hewan pemakan tumbuhan	✓	

2.



### Kunci jawaban LKPD 3

1. Apakah yang dimaksud rantai makanan? perpindahan energi makanan dari sumber daya tumbuhan melalui seri organisme atau melalui jenjang makan  
 Uraikanlah komponen rantai makanan yang ada pada ekosistem sawah! Padi - siput - katak - ular sawah - burung gagak - pengurai atau padi - burung pemakan biji - ular sawah - elang - pengurai
2. Menggambar Jaring-jaring Makanan  
Sesuai kreasi masing-masing kelompok